



Angles (Exercices)

Exercice 1

Nommer les angles :

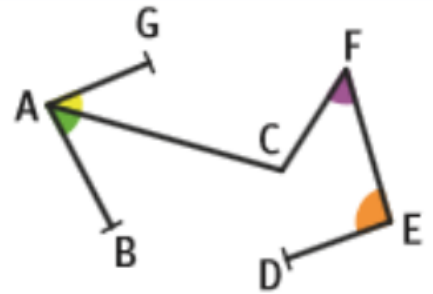
Angle jaune :

Angle vert :

Angle violet :

Angle orange :

Angle ayant pour sommet C :



Exercice 2

Mesurer les angles :

Angle jaune :

.....

Angle violet :

.....

Angle bleu :

.....

Angle rouge :

.....

Angle vert :

.....



Exercice 3

Ranger les angles colorés dans le tableau suivant

Type d'angle	Aigu	Droit	Obtus
Angles			



Exercice 4

Construire les angles suivants :

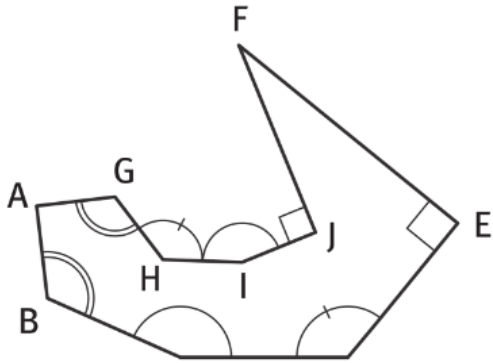
1/ $\widehat{ABC} = 35^\circ$

2/ $\widehat{MOT} = 62^\circ$

3/ $\widehat{LIT} = 134^\circ$

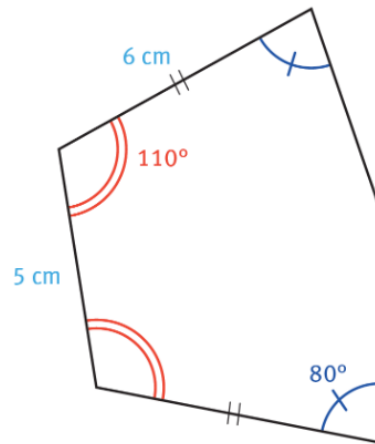
Exercice 5

Nommer les angles égaux



Exercice 6

Reproduire la figure suivante



Exercice 7

Carla partage un gâteau circulaire de 18 cm de rayon pour son anniversaire.

Pour s'amuser, elle prend son rapporteur en chocolat et fait des parts mesurant 23°.

Combien de personnes pourra-t-elle servir au maximum ?